

Volym

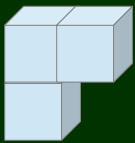
Detta läromedel innehåller uppgifter som handlar om volym inom Matematiken.
Om du vill kan du skriva dina svar direkt på detta papper.

1. Hur många kubikmeter stora är figurerna nedan?



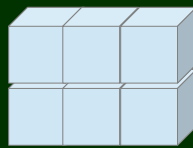
=10kubikdecimeter

Figur 1:



Svar: _____

Figur 2:




Svar: _____

Figur 3:

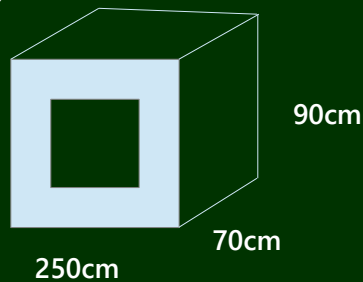


Svar: _____

2. Räkna ut volymen av följande figurer:



Figur 1: _____



Figur 2: _____

3. Fyll i tabellen nedan.

Antal dm ³	Antal m ³	Antal cm ³	Antal mm ³
11dm ³			
	5mm ³		
2dm ³			
		10cm ³	
			2000dm ³