

Vinklar


Detta läromedel innehåller blandade uppgifter som handlar om vinklar. Du kan skriva svaren på uppgifterna direkt på pappret om du vill.

1. Hur stora är vinklarna?

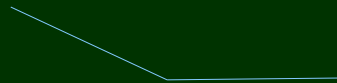
Uppskatta ett ungefärligt svar om du inte använder dig av en gradskiva.



Storlek på
vinkeln: _____°



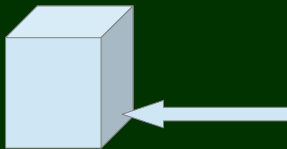
Storlek på
vinkeln: _____°



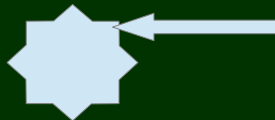
Storlek på
vinkeln: _____°

2. Hur stora är de markerade vinklarna?

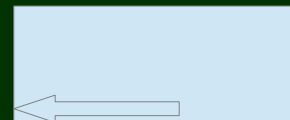
Uppskatta ett ungefärligt svar om du inte använder dig av en gradskiva.



Storlek på
vinkeln: _____°



Storlek på
vinkeln: _____°



Storlek på
vinkeln: _____°

3. Skriv om vinklarna är räta, trubbiga eller spetsiga på linjen under varje vinkel.



