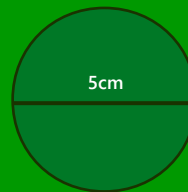
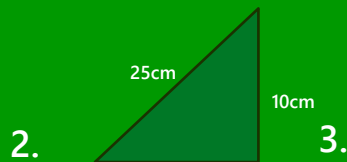
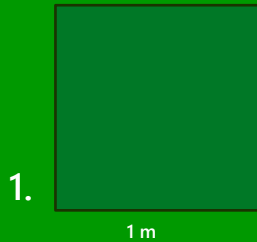


Geometri – Blandade uppgifter

Detta arbetsblad innehåller blandade uppgifter inom Geometri. Du kan skriva dina svar direkt på pappret.

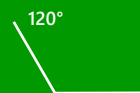


1. Beräkna arean av följande figurer:




Svar:

- 1.
- 2.
- 3.

2. Para ihop rätt figur med rätt vinkel.



3. Räkna ut arean om...



1. ...Figuren skulle vara hälften så stor:
2. ...Alla vågräta sidor i figuren skulle vara 10cm längre:
3. ...Figuren skulle förstöras med 25%:
4. ...En förminskning av figuren med 25% skulle ske: